

SZKOLNY KONKURS WIEDZY GEOGRAFICZNEJ Z CYKLU WĘDRÓWKI PO EUROPIE

„KRAJE ALPEJSKIE”

1. Który kraj alpejski kojarzy Ci się z pizzą i spaghetti?
2. W którym kraju alpejskim leży port Marsylia?
3. Symbolem, którego kraju położonego na terenie Alp, jest słynna Wieża Eiffla?
4. Symbolem, którego kraju alpejskiego jest Krzywa Wieża?
5. Jaka czekolada pochodzi z „alpejskich łąk”?

1. Na jakim półwyspie leżą Włochy?.

2. Z jakim napojeni kojarzy Ci się Bawaria?

3. Które z krajów alpejskich nie należą do UE?

4. Na podstawie opisu rozpoznaj kraje:

- kraj przyjęty do UE w 1995r., znaczna jego część leży w Alpach - stolica - nad pięknym, modrym Dunajem"
- największy pod względem powierzchni kraj alpejski, kraj wykwintnych win, mody i kosmetyków; w produkcji energii dominuje energetyka jądrowa.
- kraj położony na terenie Alp i uważany za centrum finansowe świata; posiada jeden z najwyższych PKB na jednego mieszkańca
- Leży na półwyspie i wyspach , opiera się też o Alpy

10. Wymień państwa położone na terenie Alp, tzw. państwa alpejskie.

.....

11. Jakie rzeki przepływają przez poniższe miasta?

- a) Rzym -.....
- b) Paryż -
- c) Wiedeń -.....

12. Podkreśl miasta, które są portami morskimi.

Dortmund, Katania, Monachium, Zurych, Nicea, Brest, Rzym, Genua, Mediolan, Lubiana, Triest,
Turyń, Innsbruck, Neapol, Vaduz, Hawr, Lyon

13. Jaka duża wyspa położona na Morzu Śródziemnym należy do Francji?

.....

14. W którym francuskim mieście odbywa się co roku słynny festiwal filmowy?

.....

15. Wymień jedno nazwisko słynnego projektanta mody w Paryżu?

.....

16. W jakim mieście znajduje się słynna uczelnia Sorbona?

17. „Wieczne miasto” - zwykle się mówi o.....

18. Rozpoznaj i podpisz przedstawione poniżej kontury państw alpejskich.



.....

.....

.....

19. Podaj nazwę 2 krajów alpejskich, na terenie których leżą wulkany.



.....

20. Który z krajów alpejskich powstał w wyniku rozpadu Jugosławii na kilka mniejszych państw?

.....

21. Najbardziej górzysty kraj alpejski to:.....

22. Na podstawie rysunków rozpoznaj kraje alpejskie. W rozpoznaniu pomogą Ci również niektóre produkty wytwarzane w tych krajach.



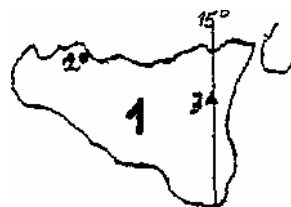
.....

.....

23. „Tajemnicza” wyspa przedstawiona poniżej należy do jednego z krajów alpejskich.

Rozpoznaj zaznaczone na rysunku obiekty geograficzne:

- a) Wyspa-.....
- b) Miasto-.....
- c) Wulkan-.....



24. Zagłębie Ruhry to najbardziej uprzemysłowiony obszar w zachodniej części Europy leżący nad:

- a) Łabą
- b) Dunajem
- c) Renem
- d) Wisłą

25. W jakich państwach alpejskich występują następujące obiekty turystyczne:

- a) Watykan -
- b) Katedra Notre Dame -
- c) Brama Brandenburska -
- d) Etna-

26. Krainy geograficzne Włoch to:

- a) Alpy, Średniogórze, Apeniny
- b) Alpy, Nizina Padańska, Apeniny
- c) Alpy, Pireneje, Nizina Padańska

27. Na terenie, którego państwa alpejskiego znajdują się dwie enklawy?(podaj ich nazwy)

.....

**28. Najwyższym szczytem Alp jesto wysokości
Szczyt ten położony jest na terenie..... (podaj nazwę państwa).**

29. Który z krajów alpejskich stał się członkiem Unii Europejskiej w tym samym czasie co Polska?

30. Spośród poniżej wymienionych elementów środowiska przyrodniczego podkreśl te, które znajdują się na terenie krajów alpejskich.

J. Genewskie, Ural, J. Ładoga, Loara, Tamiza, Tygrys, Kaukaz, Sajany, Jura, Harz, Dunaj, G. Skaliste, Kalahari, Dalmacja, Nizina Padańska, Stromboli, Kenia, Masyw Centralny, Płw. Bretoński, Barcelona, Garonna, Wyżyna Podolska, Eurokanał Ren-Men-Dunaj.

31. Z jakich trunków słynie Francja? (podaj konkretne marki - przynajmniej dwie)

.....

Opracowały: Małgorzata Pawelec-Kacprzak
Jolanta Dmochowska